

**ΑΠΟΛΥΤΗΡΙΕΣ ΕΞΕΤΑΣΕΙΣ Γ' ΤΑΞΗΣ
ΗΜΕΡΗΣΙΟΥ ΓΕΝΙΚΟΥ ΛΥΚΕΙΟΥ
ΤΡΙΤΗ 27 ΜΑΪΟΥ 2008
ΕΞΕΤΑΖΟΜΕΝΟ ΜΑΘΗΜΑ: ΧΗΜΕΙΑ - ΒΙΟΧΗΜΕΙΑ
ΤΕΧΝΟΛΟΓΙΚΗΣ ΚΑΤΕΥΘΥΝΣΗΣ
(ΚΥΚΛΟΣ ΤΕΧΝΟΛΟΓΙΑΣ ΚΑΙ ΠΑΡΑΓΩΓΗΣ)
ΣΥΝΟΛΟ ΣΕΛΙΔΩΝ: ΕΠΤΑ (7)**

ΘΕΜΑ 1ο

Για τις ερωτήσεις 1.1 και 1.2 να γράψετε στο τετράδιό σας τον αριθμό της ερώτησης και δίπλα το γράμμα που αντιστοιχεί στη σωστή απάντηση:

1.1 Ποιο από τα παρακάτω επηρεάζει την τιμή της σταθεράς ιοντισμού K_a του CH_3COOH σε αραιά υδατικά διαλύματα;

- α. η συγκέντρωση του CH_3COOH .
- β. η θερμοκρασία του διαλύματος.
- γ. ο βαθμός ιοντισμού του CH_3COOH .
- δ. η επίδραση κοινού ιόντος.

Μονάδες 4

1.2 Ποιο από τα παρακάτω μόρια ή ιόντα συμπεριφέρεται σε υδατικό διάλυμα ως διπρωτικό οξύ κατά Brønsted-Lowry;

- α. HSO_4^-
- β. HCOOH
- γ. CH_3OH
- δ. H_2S

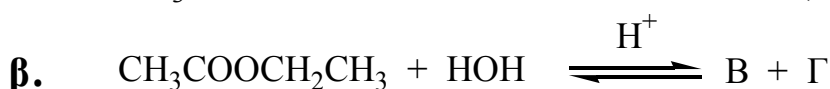
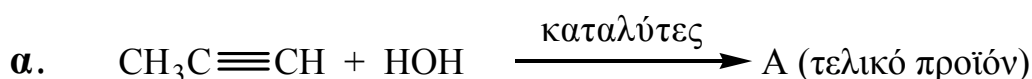
Μονάδες 5

1.3 Να χαρακτηρίσετε τις προτάσεις που ακολουθούν, γράφοντας στο τετράδιό σας δίπλα στο γράμμα που αντιστοιχεί σε κάθε πρόταση τη λέξη **Σωστό**, αν η πρόταση είναι σωστή, ή **Λάθος**, αν η πρόταση είναι λανθασμένη.

- α. Οι δευτεροταγείς αλκοόλες οξειδώνονται σε κετόνες.
- β. Η αντίδραση αλκυλαλογονιδίου με αλκοξείδιο του νατρίου (RONa) οδηγεί στον σχηματισμό εστέρα.
- γ. Τα αντιδραστήρια Grignard αντιδρούν με το νερό και δίνουν αλκάνια.

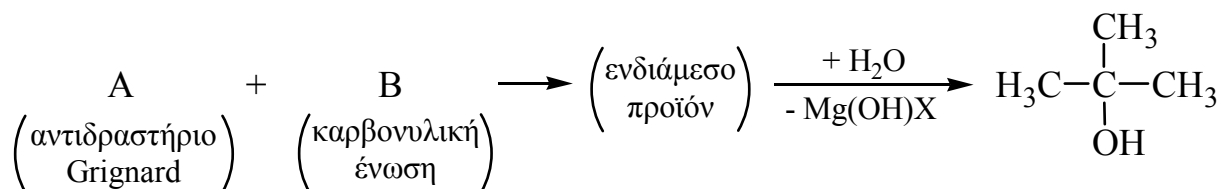
Μονάδες 6

1.4 Να μεταφέρετε στο τετράδιό σας τις παρακάτω χημικές εξισώσεις σωστά συμπληρωμένες:



Μονάδες 4

1.5 Αφού μελετήσετε την παρακάτω σειρά χημικών μετατροπών, να γράψετε στο τετράδιό σας τους συντακτικούς τύπους των οργανικών ενώσεων Α και Β.



Μονάδες 6

ΘΕΜΑ 2ο

Διαθέτουμε τα παρακάτω υδατικά διαλύματα:

ΑΡΧΗ 3ΗΣ ΣΕΛΙΔΑΣ

διάλυμα Δ_1 : NaOH 0,1 M

διάλυμα Δ_2 : NH_4Cl 0,1 M

διάλυμα Δ_3 : HCl 0,1 M

- 2.1** Να γράψετε στο τετράδιό σας τα σύμβολα Δ_1 , Δ_2 , Δ_3 της **Στήλης 1** και δίπλα σε κάθε σύμβολο τη σωστή τιμή pH από τη **Στήλη 2** του παρακάτω πίνακα (χωρίς αιτιολόγηση).

Στήλη 1	Στήλη 2 (pH)
Δ_1 : NaOH 0,1 M	1
Δ_2 : NH_4Cl 0,1 M	13
Δ_3 : HCl 0,1 M	5

Μονάδες 3

- 2.2** Να υπολογίσετε την τιμή της σταθεράς ιοντισμού K_b της NH_3 .

Μονάδες 6

- 2.3** Σε 1,1 L του διαλύματος Δ_2 διαλύεται αέρια NH_3 , οπότε προκύπτει 1,1 L ρυθμιστικού διαλύματος Δ_4 με pH=9.

Να υπολογίσετε τα mol της NH_3 που διαλύθηκε.

Μονάδες 7

- 2.4** Στο διάλυμα Δ_4 , όγκου 1,1 L, προστίθενται 0,9 L διαλύματος Δ_3 . Έτσι προκύπτει διάλυμα Δ_5 όγκου 2 L.

Να υπολογίσετε το pH του διαλύματος Δ_5 .

Μονάδες 9

Δίνεται ότι όλα τα διαλύματα βρίσκονται στους 25°C, όπου $K_w=10^{-14}$.

Για τη λύση του προβλήματος να γίνουν όλες οι γνωστές προσεγγίσεις.

ΘΕΜΑ 3ο

3.1 *Να μεταφέρετε στο τετράδιό σας τις παρακάτω προτάσεις συμπληρωμένες με τους σωστούς όρους:*

Η δευτεροταγής δομή μιας πρωτεΐνης μπορεί να έχει είτε τη μορφή, είτε τη μορφή

Η πρόσδεση του υποστρώματος και η κατάλυση μιας ενζυμικής αντίδρασης γίνεται στο του ενζύμου.

Μονάδες 6

3.2 *Να γράψετε στο τετράδιό σας τον αριθμό της ερώτησης και δίπλα το γράμμα που αντιστοιχεί στη σωστή απάντηση.*

Ποιο από τα παρακάτω σάκχαρα δεν πέπτεται από τον άνθρωπο;

α. άμυλο.

β. γλυκογόνο.

γ. κυτταρίνη.

δ. σακχαρόζη.

Μονάδες 3

3.3 *Να χαρακτηρίσετε τις προτάσεις που ακολουθούν, γράφοντας στο τετράδιό σας δίπλα στο γράμμα που αντιστοιχεί σε κάθε πρόταση, τη λέξη **Σωστό**, αν η πρόταση είναι σωστή, ή **Λάθος**, αν η πρόταση είναι λανθασμένη.*

α. Οι δύο συμπληρωματικές αλυσίδες του DNA είναι μεταξύ τους αντιπαράλληλες.

β. Κατά τη μετουσίωση των πρωτεϊνών καταστρέφεται η πρωτοταγής δομή τους.

γ. Σε υδατικό διάλυμα ενός αμινοξέος, όταν $pH < pI$, το αμινοξύ εμφανίζεται φορτισμένο αρνητικά.

Μονάδες 6

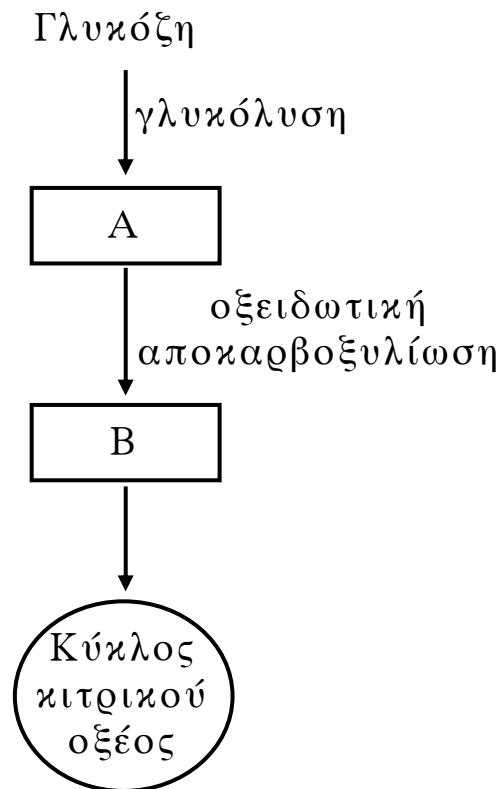
3.4 Να γράψετε στο τετράδιό σας τα γράμματα της **Στήλης 1** και δίπλα σε κάθε γράμμα έναν από τους αριθμούς της **Στήλης 2**, ώστε να προκύπτει η σωστή αντιστοίχιση.

Στήλη 1	Στήλη 2
α. φωσφοδιεστερικοί δεσμοί	1. υπάρχουν στο μόριο του αμύλου
β. πεπτιδικοί δεσμοί	2. ενώνουν τα διαδοχικά νουκλεοτίδια μιας πολυνουκλεοτιδικής αλυσίδας
γ. γλυκοζιτικοί δεσμοί	3. δεσμοί μεταξύ ατόμων θείου δύο κυστεϊνών
δ. δεσμοί υδρογόνου	4. ενώνουν τα διαδοχικά αμινοξέα μιας πολυπεπτιδικής αλυσίδας
ε. δισουλφιδικοί δεσμοί	5. ενώνουν μεταξύ τους τις συμπληρωματικές βάσεις του DNA

Μονάδες 10

ΘΕΜΑ 4^ο

Δίνεται το παρακάτω διάγραμμα αποικοδόμησης της γλυκόζης:



α. Να ονομάσετε τις ενώσεις Α και Β.

Μονάδες 8

β. Πώς ονομάζεται το πολυενζυμικό σύμπλεγμα που καταλύει την μετατροπή: $A \rightarrow B$;

Μονάδες 4

γ. Σε ποια μέρη του ευκαρυωτικού κυττάρου γίνονται οι αντιδράσεις:

- i. της γλυκόλυσης;
- ii. του κύκλου του κιτρικού οξέος;

Μονάδες 6

δ. Σε ορισμένες περιπτώσεις η ένωση Α μεταβολίζεται σε γλυκόζη. Πώς ονομάζεται η μεταβολική αυτή πορεία (μονάδες 3)

και πότε πραγματοποιείται στον οργανισμό; (μονάδες 4).

Μονάδες 7

ΟΔΗΓΙΕΣ (για τους εξεταζόμενους)

1. Στο τετράδιο να γράψετε μόνο τα προκαταρκτικά (ημερομηνία, κατεύθυνση, εξεταζόμενο μάθημα). **Να μην αντιγράψετε τα θέματα στο τετράδιο.**
2. Να γράψετε το ονοματεπώνυμό σας στο πάνω μέρος των φωτοαντιγράφων, αμέσως μόλις σας παραδοθούν. **Καμιά άλλη σημείωση δεν επιτρέπεται να γράψετε.**
Κατά την αποχώρησή σας να παραδώσετε μαζί με το τετράδιο και τα φωτοαντίγραφα.
3. Να απαντήσετε **στο τετράδιό σας σε όλα** τα θέματα.
4. Να γράψετε τις απαντήσεις σας μόνο με μπλε ή μόνο με μαύρο στυλό. Μπορείτε να χρησιμοποιήσετε μολύβι μόνο για σχέδια, διαγράμματα και πίνακες.
5. Κάθε απάντηση επιστημονικά τεκμηριωμένη είναι αποδεκτή.
6. Διάρκεια εξέτασης: τρεις (3) ώρες μετά τη διανομή των φωτοαντιγράφων.
7. Χρόνος δυνατής αποχώρησης: μετά τη 10.30' πρωινή.

ΚΑΛΗ ΕΠΙΤΥΧΙΑ

ΤΕΛΟΣ ΜΗΝΥΜΑΤΟΣ